



Lee las etiquetas y sigue las instrucciones.





Realiza las siguientes divisiones y di si son exactas o no. Después, colorea según la leyenda.

a. $11.025 : 35 =$ b. $128.459 : 64 =$

Realiza las siguientes multiplicaciones y rodea los resultados.

a. $45.658 \times 704 =$ b. $165.647 \times 906 =$

 Dividendo  Divisor
 Cociente  Resto

