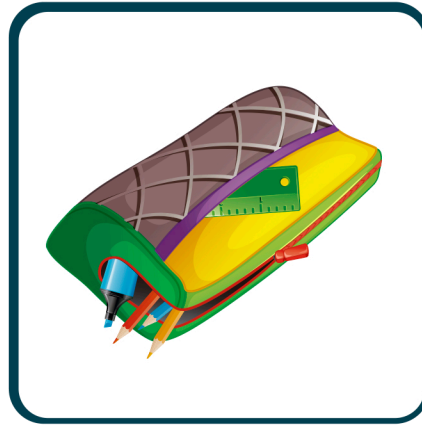


Observa los objetos y estima su medida. Después, indica SÍ o NO son objetos que pueden medirse con ayuda de la regla.




- 3 mm
- 3 cm
- 3 dm
- 3 m

SÍ  NO




- 18 mm
- 18 cm
- 18 dm
- 18 m

SÍ  NO



- 55 mm
- 55 cm
- 55 dm
- 55 m

SÍ  NO



- 26 mm
- 26 cm
- 26 dm
- 26 m

SÍ  NO



- 12 mm
- 12 cm
- 12 dm
- 12 m

SÍ  NO



- 19 mm
- 19 cm
- 19 dm
- 19 m

SÍ  NO