



Calcula cada multiplicación. Sigue las instrucciones de los tres magos para colorear los calderos según corresponda.

$$\begin{array}{r} 84 \\ \times 69 \\ \hline \end{array}$$




Colorea  
de verde  
el de  
mayor  
valor.

$$\begin{array}{r} 72 \\ \times 36 \\ \hline \end{array}$$




Colorea  
de azul el  
que tenga  
más  
ceros.

$$\begin{array}{r} 65 \\ \times 21 \\ \hline \end{array}$$



Colorea  
de naranja  
el de  
menor  
valor.

$$\begin{array}{r} 270 \\ \times 15 \\ \hline \end{array}$$



$$\begin{array}{r} 298 \\ \times 30 \\ \hline \end{array}$$



$$\begin{array}{r} 467 \\ \times 18 \\ \hline \end{array}$$

